

Č.

Příjmení a jméno: .....

Adresa školy: .....

Adresa bydliště: .....

(Adresy vyplňte až po ukončení soutěžního kola, zejm. u prací postupujících do vyššího kola.)

**Národní institut pro další vzdělávání**  
Senovážné nám. 25, 110 00 Praha 1

## **Dějepisná olympiáda**

**44. ročník – 2014/2015**

**Zadání úkolů školního kola – test**

Tematické zaměření ročníku: „Pot, slzy a naděje aneb Život je boj“

**Důležité upozornění** – u každé otázky je rámeček, který uvádí maximální počet bodů za otázku, do prázdného políčka se pak doplní získaný počet bodů. Celkem je možné získat **52 bodů**.

### **Úkol č. 1**

Napiš, který světec (viz obrázek) byl patronem vojáků a rytířů.



1 bod

### **Úkol č. 2**

Doplň text.

V době křížových výprav začala vznikat zvláštní bojová uskupení na principech mnišských řeholí – rytířské řády. Mezi nejznámější rytířské řády patřili (j) \_\_\_\_\_,

(t) \_\_\_\_\_ a (n) \_\_\_\_\_ rytíři.

3 body

### Úkol č. 3

Na obrázku je jeden z nejznámějších „komiksů“ středověku – tapisérie z Bayeux. Napiš, kterou slavnou bitvu zachycuje a jména vojevůdců, kteří se v ní střetli.



bitva u \_\_\_\_\_


vojevůdci \_\_\_\_\_ a \_\_\_\_\_

3 body

### Úkol č. 4

Na obrázku jsou obávaní válečníci raného středověku na lodích zvaných \_\_\_\_\_.

Tito bojovníci se nazývali \_\_\_\_\_.



2 body

### Úkol č. 5

Zakroužkuj název (místo), kde Slované porazili Franky.

- a) Moháč
- b) Wogastisburg
- c) Budeč

1 bod

### Úkol č. 6

Doplň text.

Břetislav dobyl v roce 1039 město \_\_\_\_\_, aby získal ostatky

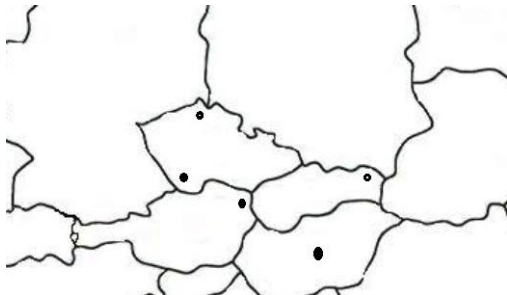
sv. \_\_\_\_\_.

Na území kterého dnešního státu se město nacházelo? \_\_\_\_\_.

3 body	
--------	--

### Úkol č. 7

Na mapě dnešní střední Evropy zakroužkuj bod (místo), kde se v roce 1278 utkal



\_\_\_\_\_

\_\_\_\_\_s\_\_\_\_\_

(doplň celá jména).

Místo bitvy: \_\_\_\_\_

4 body	
--------	--

### Úkol č. 8

Války s Turky v 16. století – urči, zda je na obrázku vojsko křesťanské, nebo turecké.



\_\_\_\_\_

1 bod	
-------	--

### Úkol č. 9

Podle charakteristiky doplň, o kterou bitvu v našich dějinách se jedná, a který vojevůdce v ní padl.

...Husitská a katolická šlechta vytvořily tzv. panskou jednotu, ke které přistoupili také pražané. Společnými silami připravili táborům a sirotkům v roce 1434 zdrcující porážku v bitvě u \_\_\_\_\_.

Smrt tam našel i vrchní hejtman \_\_\_\_\_.

2 body	
--------	--

### Úkol č. 10

Uveď jména českých králů, kteří zahynuli v bitvách charakterizovaných obrázky, a urči století bitvy (pozorně si prohlédni zejména levý obrázek).



Bitva u \_\_\_\_\_

Jméno krále: \_\_\_\_\_

Století: \_\_\_\_\_

Bitva u \_\_\_\_\_

Jméno krále: \_\_\_\_\_

Století: \_\_\_\_\_

6 bodů	
--------	--

### Úkol č. 11

Doplň pojmy označující „vybavení“ středověkého válečníka:

k \_\_ í; m \_\_ č; š \_\_ t; h \_\_ \_\_ a.

4 body	
--------	--

### Úkol č. 12

Zakroužkuj správnou možnost.

- Jako stoletá válka je označována válka mezi
  - Anglií a Španělskem,
  - Francií a Anglií,
  - Německem a Anglií,
  - Španělskem a Francií.
- Příčinou stoleté války
  - byla snaha Francie o získání části anglického území,
  - byla snaha španělského krále o získání titulu římského císaře,
  - byla snaha Anglie o získání části francouzského území,
  - bylo zabrání území Anglie Španělskem a Francií.
- Vyber tvrzení, které **neplatí** o Janě z Arku:
  - Byla nazývána „Panna orleánská“.
  - Pomohla osvobodit Anglii.
  - Byla upálena jako čarodějnice.
  - Byla prohlášena za svatou.

3 body	
--------	--

### Úkol č. 13

Vyber a označ (zakroužkuj) tři tvrzení o husitských válkách, která **platí**:

- a) Výpravy vojska vedeného Zikmundem Lucemburským proti husitům nazýváme křížovými výpravami.
- b) Odehrálo se celkem 22 křížových výprav.
- c) Husité v jedné z křížových výprav prohráli.
- d) Jan Žižka z Trocnova zemřel v bitvě u Lipan.
- e) Po smrti Jana Žižky z Trocnova se stal vůdcem husitského vojska Prokop Holý.
- f) K bitvě u Domažlic podle kronikářů nedošlo, protože křížáci byli zahnáni husitským zpěvem.

3 body	
--------	--

### Úkol č. 14

Roku 1453 bylo Turky dobyté hlavní město jedné z velkých říší historie. Tento rok je spolu s objevením Ameriky považován za začátek novověku.



O kterou říši se jednalo? \_\_\_\_\_

Jak zněl název jejího hlavního města? \_\_\_\_\_

Jak zní název tohoto města nyní? \_\_\_\_\_

(Nápovědou ti může být současná fotografie původního křesťanského chrámu v tomto městě.)

3 body	
--------	--

### Úkol č. 15

Doplň místo spojené s uvedenými událostmi.

Vyvraždění Slavníkovců – (název hradiště) \_\_\_\_\_

Porážka Maďarů r. 955 – (název řeky) \_\_\_\_\_

2 body	
--------	--

### Úkol č. 16

Původně šlo při těchto slavnostech o zdokonalování mladých rytířů v bojovém umění v období mezi válečnými taženími. Klání sloužila i k rozptýlení lidu i hradních paní.

Jak se nejproslulejší středověké slavnosti nazývaly? \_\_\_\_\_

1 bod	
-------	--

### Úkol č. 17

Jak se nazýval soubor pravidel pro boj, dělení kořisti i trestání přestupků, jehož základem byly čtyři pražské artikuly?

(Ž) \_\_\_\_\_ (v) \_\_\_\_\_ (ř) \_\_\_\_\_

1 bod	
-------	--

### Úkol č. 18

Husité si potraviny a další kořist opatřovali na výpravách do sousedních zemí, kde se snažili získat stoupence a sympatie. Jak se tyto výpravy nazývaly? \_\_\_\_\_

1 bod	
-------	--

### Úkol č. 19

Škrtni ta jména, která **neoznačují** husitské hejtmany.

Jan Žižka; Jan Želivský; Jan Hus; Jan Rokycana; Prokop Holý; Jan Roháč z Dubé

3 body	
--------	--

### Úkol č. 20

Doplň názvy husitských zbraní.



5 bodů	
--------	--

Celkem	52 bodů	
--------	---------	--

Dějepisná olympiáda - 44. ročník – 2014/2015

Řešení úkolů školního kola

**Úkol č. 1**

Svatý Jiří (Jiří)

1 bod

**Úkol č. 2**

johanité; templáři; němečtí rytíři

3 body

**Úkol č. 3**

Hastingsu; Vilém Dobyvatel a Harald

3 body

**Úkol č. 4**

drakkary; vikingové (normané; varjagové)

2 body

**Úkol č. 5**

b) Wogastisburg

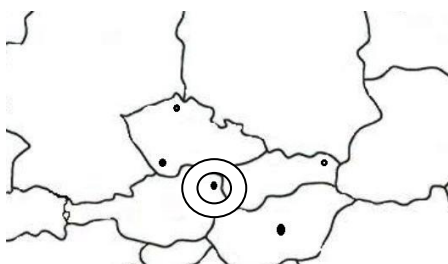
1 bod

**Úkol č. 6**

Hnězdno; sv. Vojtěcha; Polsko

3 body

**Úkol č. 7**



Přemysl Otakar II. s Rudolfem Habsburským

Místo bitvy: Suché Kruty/Moravské pole

4 body

**Úkol č. 8**

turecké vojsko

1 bod

**Úkol č. 9**

Lipan; Prokop Holý (Veliký)

2 body

<b>Úkol č. 10</b> bitva u Kresčaku; Jan Lucemburský; 14. století; bitva u Moháče; Ludvík Jagellonský; 16. století	6 bodů
<b>Úkol č. 11</b> kopí; meč; štít; helma	4 body
<b>Úkol č. 12</b> 1b; 2c; 3b	3 body
<b>Úkol č. 13</b> a; e; f	3 body
<b>Úkol č. 14</b> Byzantská říše; Konstantinopol/Cařihrad; Istanbul	3 body
<b>Úkol č. 15</b> Libice nad Cidlinou (Libice); Lech	2 body
<b>Úkol č. 16</b> rytířské turnaje	1 bod
<b>Úkol č. 17</b> Žižkův vojenský řád	1 bod
<b>Úkol č. 18</b> spanilé jízdy (rejsy)	1 bod
<b>Úkol č. 19</b> Škrtnuti budou: Jan Želivský; Jan Hus; Jan Rokycana	3 body
<b>Úkol č. 20</b> houfnice; kropáč; sudlice (ušatá); cep; řemdih	5 bodů

**Celkem: 52 bodů**

Soutěžní úkoly vytvořili členové Ústřední komise Dějepisné olympiády: Mgr. Václava Korcová (předsedkyně poroty), Mgr. Lenka Broklová, Mgr. Irena Náprstková, Mgr. Josef Vávra, Mgr. Jaroslav Gloser.