



Název a adresa školy: .....

Kraj: .....

Jméno a příjmení: .....

Třída: ..... Datum: .....

### Práce s atlasem

- 1) Francie je významným členem Evropské unie. Díky své koloniální minulosti není území Francie pouze v Evropě. S pomocí atlasu vyhledej všechna území, která tvoří součást Francie nebo jsou s ní spojená. Urči nejvzdálenější region (území) EU.

*Nápověda:*

*Zámořské departementy*

*Zámořská teritoria*

*Francouzské společenství*

*Zámořská správní korporace*

Zámořské departementy:

- .....
- .....
- .....
- .....
- .....

Další zámořská území:

- .....
- .....
- .....
- .....
- .....
- .....
- .....
- .....
- .....

2) Doplňte a odvoďte charakteristiky města Szeged.

<i>Fyzickogeografické charakteristiky</i>	
<i>Fyzickogeografická poloha</i>	
<i>Roční úhrn srážek</i>	
<i>Průměrná teplota nejteplejšího měsíce</i>	
<i>Roční amplituda měsíčních teplot</i>	
<i>Vegetační pás</i>	
<i>Socioekonomické charakteristiky</i>	
<i>Dopravní poloha</i>	
<i>Přírodní předpoklady pro cestovní ruch</i>	
<i>Administrativní zařazení</i>	
<i>Klima vhodné pro pěstování (podtrhni smysluplné možnosti)</i>	

9 b.

Celkem dosaženo maximálně 47 b.



Název a adresa školy: .....

Kraj: .....

Jméno a příjmení: .....

Třída: ..... Datum: .....

### Práce s atlasem – autorské řešení

- 1) Francie je významným členem Evropské unie. Díky své koloniální minulosti není území Francie pouze v Evropě. S pomocí atlasu vyhledej všechna území, která tvoří součást Francie nebo jsou s ní spojená. Urči nejvzdálenější region (území) EU.

*Nápověda:*

*Zámořské departementy*

*Zámořská teritoria*

*Francouzské společenství*

*Zámořská správní korporace*

Zámořské departementy:

- **Martinique**
- **Guadeloupe,**
- **Réunion**
- **Francouzská Guyana**
- **Mayotte jeden z ostrovů Komorského souostroví**

Další zámořská území:

- **Francouzská jižní a antarktická území**  
Ostrov Svatý Pavel a Amsterdam  
Crozetovy ostrovy  
Kerguelenovy ostrovy  
Roztroušené ostrovy  
Adélina země
- **Nová Kaledonie**  
Île des Pins (doslova: Borovicový ostrov)  
ostrovy Loyauté, zejména Ouvéa, Lifou a Maré  
útesy Bellone  
skupina ostrovů okolo ostrova Huon  
Chesterfieldovy ostrovy

- **Francouzská Polynésie**  
Ostrov Společnosti (*Společenské ostrovy*):  
- Návětrné ostrovy (zejm. Tahiti)  
- Závětrné ostrovy (zejm. Raïatea)  
souostroví Tuamotu (*Paumotu*)  
souostroví Markézy  
Gambierovy ostrovy  
Jižní souostroví (*Tubuai*)
- **Saint-Barthélemy ostrov v Karibském moři, nejbližšího regionu EU**
- **Saint-Pierre a Miquelon**
- **Wallis a Futuna**
- **Saint-Martin**
- **Clippertonův ostrov**

**Max. 38 b.**

**Za správné určení zámořských departmentů 2 b. (max. 10 b.)**

**Za správné určení dalších zámořských území 3 b. (max. 24 b.)**

**Body přiřadit i za určení pouze části odpovědi, např. Crozetovy ostrovy (1 b.)**

**Za správné určení nejbližšího regionu EU – 4 body**

38 b.

2) Doplňte a odvoďte charakteristiky města Szeged.

<i>Fyzickogeografické charakteristiky</i>	
<i>Fyzickogeografická poloha</i>	<b>Velká Uherská nížina, na řece Tise</b>
<i>Roční úhrn srážek</i>	<b>400 - 600 mm</b>
<i>Průměrná teplota nejteplejšího měsíce</i>	<b>20-25 °C</b>
<i>Roční amplituda měsíčních teplot</i>	<b>asi 15-25°C</b>
<i>Vegetační pás</i>	<b>stepi</b>
<i>Socioekonomické charakteristiky</i>	
<i>Dopravní poloha</i>	<b>na významné silnici z Budapešti do Bělehradu a do Bukurešti, vodní doprava, bezbariérová poloha (stačí 1 odpověď)</b>
<i>Přírodní předpoklady pro cestovní ruch</i>	<b>velmi omezené, žádné</b>
<i>Administrativní zařazení</i>	<b>župa Csongrád</b>
<i>Klima vhodné pro pěstování (podtrhni smysluplné možnosti)</i>	<b>Kukuřice, pšenice, zelenina, rýže, bavlník, čajovník, kaučukovník, tabák</b>

**Za každou úplnou odpověď na řádce 1 bod, u přírodních podmínek za neúplnost na řádce polovina bodů. Zvažujte další smysluplné varianty odpovědí. Celkem až 9 bodů.**

9 b.

Celkem dosaženo maximálně 47 b.



Název a adresa školy: .....

Kraj: .....

Jméno a příjmení: .....

Třída: ..... Datum: .....

### Práce bez atlasu

*Ke každému kraji přiřaď osm lokalit, které se vyskytují na jeho území. Některé lokality se mohou objevit ve více krajích. Jedná se o zařazení řek, jezer, přehrad, rybníků, pohoří, vrcholů, geomorfologických jednotek, maloplošných a velkoplošných chráněných území, jeskyní. Pokud si v uvedených lokalitách našel název biosférické rezervace, podtrhni ho.*

Seznam lokalit naleznete na poslední stránce.

#### Karlovarský kraj


#### Plzeňský kraj


#### Jihočeský kraj


#### Kraj Vysočina


#### Ústecký kraj


Liberecký kraj


Královéhradecký kraj


Pardubický kraj


Jihomoravský kraj


Zlínský kraj


Moravskoslezský kraj


Olomoucký kraj


Středočeský kraj


Adršpašsko-teplické skály	CHKO Železné hory	Ohře
Americká zahrada	Ještěd	Orlické hory
Bezdrev	Jihlava	Plechý
Bílina	Jizerské hory	Prachovské skály
Bozkovská dolomitová jeskyně	Karlštejnská vrchovina	Pravčická brána
Božídarská rašeliniště	Kateřinská jeskyně	Pražská plošina
Čerchov	Klínovec	Radbuza
Černé jezero	Koněpruské jeskyně	Říp
Dalešice	Kozákov	Seč
Děčínský Sněžník	Králický Sněžník	Slapy
Desná	Krkonošsko-jesenická sub.	Smědá
Devět skal	Krušnohorská subprovincie	Smrčiny
Dolnomoravský úval	Křemešník	Sněžka
Hojná voda	Kunětická hora	SOOS
Hranická propast	Loučná	Stěnavá
Hruboskalsko	Lužická Nisa	Štěchovice
CHKO Beskydy	Lužnice	Šumavská subprovincie
CHKO Bílé Karpaty	Lysá hora	Teplá
CHKO Blaník	Metuje	Tok
CHKO Broumovsko	Milešovka	Velké Dářko
CHKO Český kras	Mohelenská hadcová step	Velký Javorník
CHKO Český les	Mohelnická brázda	Vizovická vrchovina
CHKO Jeseníky	Moravice	Vlára
CHKO Litovelské Pomoraví	Moravská brána	Vranov
CHKO Pálava	Mostecká pánev	Vsetínská Bečva
CHKO Poodří	Mže	Všerubská vrchovina
CHKO Slavkovský les	Nové Mlýny	Vyškovská brána
CHKO Třeboňsko	Novohradské hory	Žofínský prales
CHKO Žďárské vrchy	Odra	

Celkem dosaženo maximálně 55 b.

55 b.



Název a adresa školy: .....

Kraj: .....

Jméno a příjmení: .....

Třída: ..... Datum: .....

### Práce bez atlasu – autorské řešení

Ke každému kraji přiřaď osm lokalit, které se vyskytují na jeho území. Některé lokality se mohou objevit ve více krajích. Jedná se o zařazení řek, jezer, přehrad, rybníků, pohoří, vrcholů, geomorfologických jednotek, maloplošných a velkoplošných chráněných území, jeskyní. Pokud si v uvedených lokalitách našel název biosférické rezervace, podtrhni ho.

Seznam lokalit naleznete na poslední stránce.

#### Karlovarský kraj

**Krušnohorská subprovincie, Ohře, Teplá, Smrčiny, Klínovec, Božídarská rašeliniště, SOOS, CHKO Slavkovský les**

#### Plzeňský kraj

**Šumavská subprovincie, Mže, Radbuza, Všerubská vrchovina, CHKO Český les, Čerchov, Černé jezero, Americká zahrada**

#### Jihočeský kraj

**Šumavská subprovincie, Lužnice, Bezdrev, Novohradské hory, Plechý, Hojná voda, Žofínský prales, CHKO Třeboňsko**

#### Kraj Vysočina

**CHKO Železné hory, CHKO Žďárské vrchy, Jihlava, Dalešice, Mohelenská hadcová step, Devět skal, Velké Dářko, Křemešník**

#### Ústecký kraj

**Krušnohorská subprovincie, Ohře, Bílina, Děčínský Sněžník, Pravčická brána, Milešovka, Mostecká pánev, Říp**

#### Liberecký kraj

**Ještěd, Krkonoško-jesenická subprovincie, Jizerské hory, Lužická Nisa, Smědá, Kozákov, Bozkovská dolomitová jeskyně, Hruboskalsko**

#### Královéhradecký kraj

**Krkonoško-jesenická subprovincie, Sněžka, CHKO Broumovsko, Orlické hory, Stěnavá, Metuje, Prachovské skály, Adršpašsko-teplické skály**



Pardubický kraj

*Orlické hory, Krkonošsko-jesenická subprovincie, Loučná, Seč, Králický Sněžník, Kunětická hora, CHKO Železné hory, CHKO Žďárské vrchy*

Jihomoravský kraj

*Jihlava, Vyškovská brána, Nové Mlýny, Vranov, CHKO Pálava, Kateřinská jeskyně, Dolnomoravský úval, CHKO Bílé Karpaty*

Zlínský kraj

*Vizovická vrchovina, Vsetínská Bečva, Vlára, Dolnomoravský úval, Velký Javorník, CHKO Beskydy, CHKO Bílé Karpaty*

Moravskoslezský kraj

*CHKO Beskydy, CHKO Poodří, Krkonošsko-jesenická subprovincie Odra, Moravská brána, Moravice, CHKO Jeseníky, Lysá hora*

Olomoucký kraj

*Krkonošsko-jesenická subprovincie, Hranická propast, Odra, Moravská brána, Mohelnická brázda, Desná, CHKO Litovelské Pomoraví, CHKO Jeseníky*

Středočeský kraj

*Štěchovice, Slapy, Tok, CHKO Český kras, CHKO Blaník, Pražská plošina, Koněpruské jeskyně, Karlštejnská vrchovina*

*Max. 55 b. za správnou odpověď 0,5 b., chybné odpovědi neodečítat, za biosférickou rezervaci 1 bod.*

Adršpašsko-teplické skály  
Americká zahrada  
Bezdrev  
Bílina  
Bozkovská dolomitová jeskyně  
Božídarská rašeliniště  
Čerchov  
Černé jezero  
Dalešice  
Děčínský Sněžník  
Desná  
Devět skal  
Dolnomoravský úval  
Hojná voda  
Hranická propast  
Hruboskalsko  
CHKO Beskydy  
CHKO Bílé Karpaty  
CHKO Blaník  
CHKO Broumovsko  
CHKO Český kras  
CHKO Český les  
CHKO Jeseníky  
CHKO Litovelské Pomoraví  
CHKO Pálava  
CHKO Poodří  
CHKO Slavkovský les  
CHKO Třeboňsko  
CHKO Žďárské vrchy

CHKO Železné hory  
Ještěd  
Jihlava  
Jizerské hory  
Karlštejnská vrchovina  
Kateřinská jeskyně  
Klínovec  
Koněpruské jeskyně  
Kozákov  
Králický Sněžník  
Krkonošsko-jesenická sub.  
Krušnohorská subprovincie  
Křemešník  
Kunětická hora  
Loučná  
Lužická Nisa  
Lužnice  
Lysá hora  
Metuje  
Milešovka  
Mohelenská hadcová step  
Mohelnická brázda  
Moravice  
Moravská brána  
Mostecká pánev  
Mže  
Nové Mlýny  
Novohradské hory  
Odra

Ohře  
Orlické hory  
Plechý  
Prachovské skály  
Pravčická brána  
Pražská plošina  
Radbuza  
Říp  
Seč  
Slapy  
Smědá  
Smrčiny  
Sněžka  
SOOS  
Stěna  
Štěchovice  
Šumavská subprovincie  
Teplá  
Tok  
Velké Dářko  
Velký Javorník  
Vizovická vrchovina  
Vlára  
Vranov  
Vsetínská Bečva  
Všerubská vrchovina  
Vyškovská brána  
Žofínský prales

55 b.

Celkem dosaženo maximálně 55 b.



Název a adresa školy: .....

Kraj: .....

Jméno a příjmení: .....

Třída: ..... Datum: .....

### Praktická část

1) V textu doplň chybějící slova a odpověz na otázky.

*Ostrov leží v blízkosti maloasijského a levantského pobřeží (vzdálenost asi 100 km) a geograficky patří k Asii. Historickým vývojem s velkým vlivem řecké civilizace (kultury) se obecně považuje za součást kulturní Evropy. Řekové mu přezdívali ..... ostrov. Stal se členem významných evropských organizací (sportovních, politických, hospodářských). Od roku 2004 je členem EU.*

*Osídlili jej staří Řekové, kteří sem přinesli antickou civilizaci. Následují vlivy Byzance, křesťanství (křižáci) a v 16. století dobývají ostrov ..... Koncem 19. století se na ostrov dostávají Britové. Po složitých jednáních vzniká nezávislá republika v roce 1960.*

*Dvě základní komunity nově vzniklé republiky však nežijí vedle sebe v bezkonfliktních vztazích. První střety a první mrtví přicházejí již koncem roku 1963. Od roku 1964 zde působí kontingent vojáků OSN. Obě komunity se separují. V roce 1974 dochází k převratu a hrozí připojení k Řecku. Následuje turecká vojenská invaze. Dochází k masivním přesunům obyvatel, při kterých jsou velké oběti na životech. Ostrov je prakticky rozdělen.*

Otázky:

1) Jaké nejpočetnější národnosti žijí na ostrově?

.....

2) Jak se jmenují dva státy, které leží na ostrově?

.....

3) Která z vyhlášených republik nemá mezinárodní uznání?

.....

4) Která z republik má větší počet obyvatel?

.....

5) Napiš název hlavních měst obou republik.

.....

6) Jak dopadlo referendum o sjednocení v roce 2004 v obou státech?

.....

7) Jaké je převládající náboženské vyznání v obou republikách?

.....

13 b.

2) Spolupráce mezi státy je jedním z hlavních cílů EU. Z tohoto důvodu byl vyhlášen program INTERREG, jehož hlavním cílem je podpora a rozvoj spolupráce mezi regiony různých států, ať jsou členy EU nebo nikoli.

Které země se podílejí na spolupráci v:

a) oblasti západní Středomoří

.....

b) oblasti Baltské moře

.....

9,5 b.

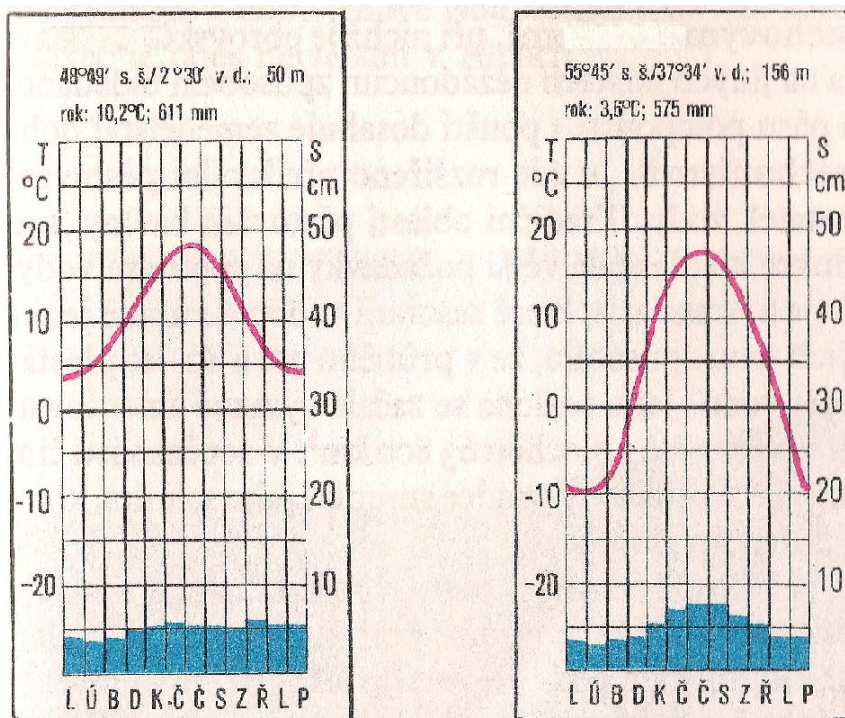
3) V textu podtrhni případné chyby.

*EU je nejvýznamnějším migračním územím na světě.*

*Každoročně přichází do zemí EU více než 1 milion přistěhovalců. EU je velice atraktivní oblastí pro přistěhovalce. Vytvořením prostoru, vymezeným Schengenskou dohodou, se usnadnil pohyb obyvatel mezi členskými státy. Tato situace vyvíjí tlak na sousední státy, aby působily jako první bariéra a síto zmírňující příliv migrantů. Přistěhovalci, hledající zpravidla ekonomickou prosperitu, se do schengenského prostoru dostávají méně snadno. Do každého významného evropského státu přicházejí přistěhovalci podle určitého klíče. Německo, které je z pohledu přistěhovalců na prvním místě, přijímá migranty především z Balkánu, Turecka s střední Evropy. Francie a Velká Británie mají svoji migrační politiku zohledněnou vazbami na země jejich bývalých kolonií. Do Itálie přicházejí cizinci především z blízkých zemí. Komunity cizinců ve státech západní Evropy přesahují jen zřídka 1% z celkové populace. Výjimkou je Německo, kde Turci tvoří asi 2,4% z celkové populace. Celkový podíl všech cizinců však dosahuje téměř 9%. Podobná situace je ve Francii, kde podíl severoafričanů je téměř 2%, celkový podíl cizinců pak dosahuje okolo 6% na celkové populaci. Zajímavé je, že v málo lidnatém Norsku počet cizinců dosahuje asi 5% z celkové populace, kdežto v lidnaté Itálii je podíl cizinců na celkové populaci asi 3%.*

6 b.

4) Předložené klimadiagramy náleží dvěma evropským hlavním městům. Jedno z těchto měst leží v západní Evropě a druhé ve východní. Zeměpisná šířka obou měst je téměř shodná, liší se o 7° (cca 49° a 55°). Nadmořská výška obou měst je uvedena v klimadiagramu. Rovněž tak průměrná roční teplota a průměrné roční množství srážek.



a) Dokázal bys odhadnout, o která města se jedná?

.....

b) Vysvětli vlivy (příčiny), které způsobily rozdíl v množství srážek.

.....  
 .....

c) Vysvětli vlivy (příčiny), které vedly k rozdílnému průběhu teplot během roku.

.....  
 .....

d) U kterého města se projevuje větší kontinentalita a proč?

.....

e) V jakém klimatickém pásu obě města leží?

.....

6 b.

5) Do přiložené mapy Evropy zakresli a označ:

a) Nebezpečné oblasti se zvýšeným rizikem seismicity.

b) Vysvětli, proč jsou tyto oblast aktivní a nebezpečné.

.....  
.....

c) Oblasti se zvýšenými hodnotami kyselých dešťů.

d) Vysvětli, proč je jejich výskyt v těchto oblastech.

.....  
.....



14 b.

Celkem dosaženo maximálně 48,5 b.



Název a adresa školy: .....

Kraj: .....

Jméno a příjmení: .....

Třída: ..... Datum: .....

### Praktická část – autorské řešení

1) V textu doplň chybějící slova a odpověz na otázky.

*Ostrov leží v blízkosti maloasijského a levantského pobřeží (vzdálenost asi 100 km) a geograficky patří k Asii. Historickým vývojem s velkým vlivem řecké civilizace (kultury) se obecně považuje za součást kulturní Evropy. Řekové mu přezdívali **Afroditiin** ostrov. Stal se členem významných evropských organizací (sportovních, politických, hospodářských). Od roku 2004 je členem EU.*

*Osídlili jej staří Řekové, kteří sem přinesli antickou civilizaci. Následují vlivy Byzance, křesťanství (křižáci) a v 16. století dobývají ostrov **Turci**. Koncem 19. století se na ostrov dostávají Britové. Po složitých jednáních vzniká nezávislá republika v roce 1960.*

*Dvě základní komunity nově vzniklé republiky však nežijí vedle sebe v bezkonfliktních vztazích. První střety a první mrtví přicházejí již koncem roku 1963. Od roku 1964 zde působí kontingent vojáků OSN. Obě komunity se separují. V roce 1974 dochází k převratu a hrozí připojení k Řecku. Následuje turecká vojenská invaze. Dochází k masivním přesunům obyvatel, při kterých jsou velké oběti na životech. Ostrov je prakticky rozdělen.*

Otázky:

1) Jaké nejpočetnější národnosti žijí na ostrově?

**Řekové a Turci**

2) Jak se jmenují dva státy, které leží na ostrově?

**Kyperská republika, Severokyperská turecká republika**

3) Která z vyhlášených republik nemá mezinárodní uznání?

**Severokyperská turecká republika**

4) Která z republik má větší počet obyvatel?

**Kyperská republika**

5) Napiš název hlavních měst obou republik.

**Lefkosía/Nikósie a Lefkosa/Nikósie**

6) Jak dopadlo referendum o sjednocení v roce 2004 v obou státech?

**zamítnuto, ale Severokyperská turecká republika chtěla sjednocení, Kyperská republika ne**

7) Jaké je převládající náboženské vyznání v obou republikách?

**řecké pravoslaví – muslimové (sunnité)**

**Max. 13 b., za správnou odpověď 1 b.**

13 b.

2) Spolupráce mezi státy je jedním z hlavních cílů EU. Z tohoto důvodu byl vyhlášen program INTERREG, jehož hlavním cílem je podpora a rozvoj spolupráce mezi regiony různých států, ať jsou členy EU nebo nikoli.

Které země se podílejí na spolupráci v:

a) oblasti západní Středomoří

**Portugalsko, Španělsko, Francie, Itálie, Švýcarsko, Tunisko, Alžírsko, Maroko**

b) oblasti Baltské moře

**Norsko, Finsko, Švédsko, Dánsko, Německo, Polsko, Bělorusko, Litva, Estonsko, Lotyšsko, Rusko**

**Max. 9,5 bodů, za správně uvedený stát 0,5 bodu.**

9,5 b.

3) V textu podtrhni případné chyby.

*EU je nejvýznamnějším migračním územím na světě.*

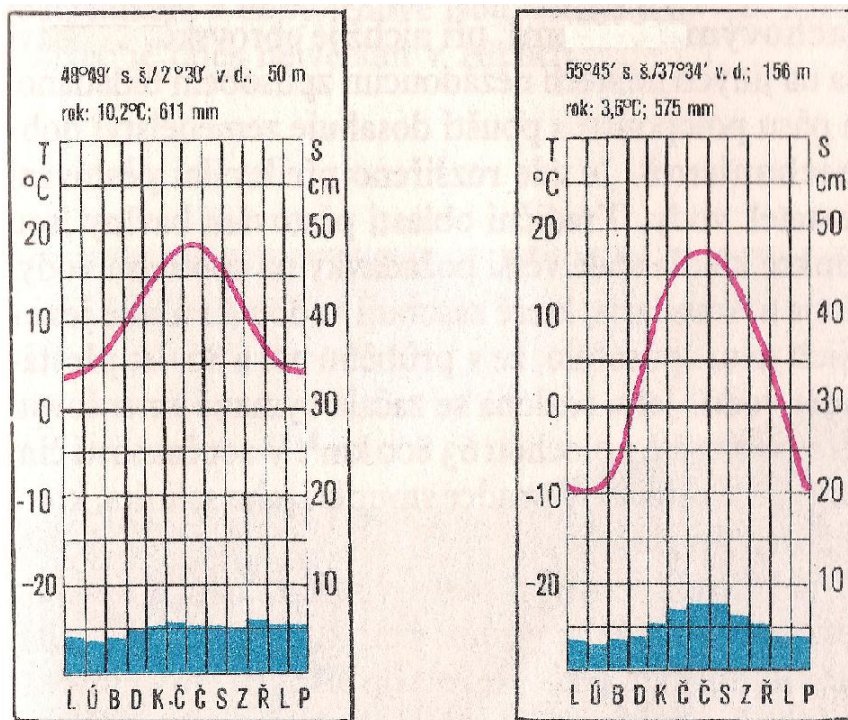
*Každoročně přichází do zemí EU více než 1 milion přistěhovalců. EU je velice atraktivní oblastí pro přistěhovalce. Vytvořením prostoru, vymezeným Schengenskou dohodou, se usnadnil pohyb obyvatel mezi členskými státy. Tato situace vyvíjí tlak na sousední státy, aby působily jako první bariéra a síto zmírňující příliv migrantů. Přistěhovalci, hledající zpravidla ekonomickou prosperitu, se do schengenského prostoru dostávají méně snadno. Do každého významného evropského státu přicházejí přistěhovalci podle určitého klíče. Německo, které je z pohledu přistěhovalců na prvním místě, přijímá migranty především z Balkánu, Turecka s střední Evropy. Francie a Velká Británie mají svoji migrační politiku zohledněnou vazbami na země jejich bývalých kolonií. Do Itálie přicházejí cizinci především z blízkých zemí. Komunity cizinců ve státech západní Evropy přesahují jen zřídka 1% z celkové populace. Výjimkou je Německo, kde Turci tvoří asi 2,4% z celkové populace. Celkový podíl všech cizinců však dosahuje téměř 9%. Podobná situace je ve Francii, kde podíl severoafričanů je téměř 2%, celkový podíl cizinců pak dosahuje okolo 6% na celkové populaci. Zajímavé je, že v málo lidnatém Norsku počet cizinců dosahuje asi 5% z celkové populace, kdežto v lidnaté Itálii je podíl cizinců na celkové populaci asi 3%.*

**Max 6 bodů – celý text je bez chyb, v případě chybného podtržení odečíst 0,5 bodu.**

6 b.



- 4) Předložené klimadiagramy náleží dvěma evropským hlavním městům. Jedno z těchto měst leží v západní Evropě a druhé ve východní. Zeměpisná šířka obou měst je téměř shodná, liší se o  $7^\circ$  (cca  $49^\circ$  a  $55^\circ$ ). Nadmořská výška obou měst je uvedena v klimadiagramu. Rovněž tak průměrná roční teplota a průměrné roční množství srážek.



- a) Dokázal bys odhadnout, o která města se jedná?

**Paříž – Moskva**

- b) Vysvětli vlivy (příčiny), které způsobily rozdíl v množství srážek.

**Přímořské podnebí s vyrovnanou bilancí srážek během celého roku, kontinentální podnebí způsobuje nižší srážkový úhrn, sušší zimní období.**

- c) Vysvětli vlivy (příčiny), které vedly k rozdílnému průběhu teplot během roku.

**Paříž je charakteristická malými rozdíly teploty během celého roku a dostatkem srážek, u Moskvy se zvyšuje rozdíl teploty mezi létem a zimou, srážek je méně vzhledem k velké vzdálenosti od oceánu.**

- d) U kterého města se projevuje větší kontinentalita a proč?

**u Moskvy, větší klimatická amplituda.**

- e) V jakém klimatickém pásu obě města leží?

**mírný klimatický pás**

**Max. 6 bodů, 1 bod za správnou odpověď, při hodnocení doporučuji jistou toleranci při posuzování smysluplných odpovědí.**

6 b.

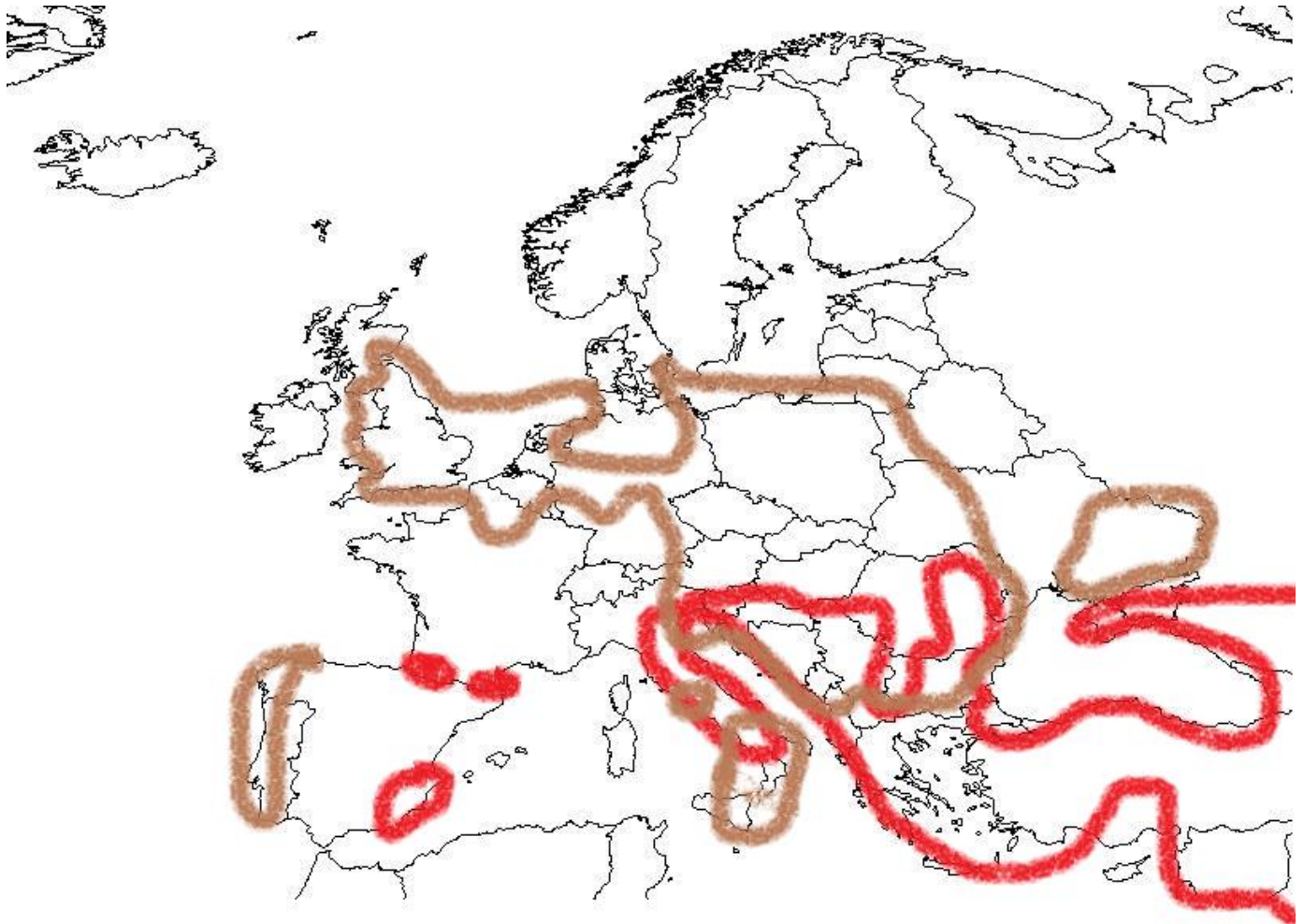
5) Do přiložené mapy Evropy zakresli a označ:

- a) Nebezpečné oblasti se zvýšeným rizikem seismicity.
- b) Vysvětlí, proč jsou tyto oblasti aktivní a nebezpečné.

***Převážně třetihorní a čtvrtohorní méně stabilní zvrásnění zemské kůry, blízkost hranic (rozhraní) litosférických desek.***

- c) Oblasti se zvýšenými hodnotami kyselých dešťů.
- d) Vysvětlí, proč je jejich výskyt v těchto oblastech.

***Oblasti velké koncentrace průmyslové výroby, dopravy a obyvatelstva.***



**— Oblast zvýšeného výskytu kyselých dešťů**

**— Oblast zvýšené seismicity**

***Za správně označenou oblast 2 b.***

***Za správné vysvětlení 2 b.***

***Zvažte další smysluplná vysvětlení.***

***Max. 14 b.***

14 b.

Celkem dosaženo maximálně 48,5 b.